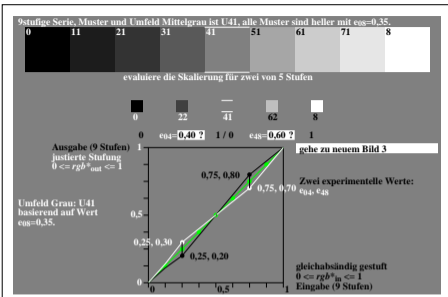
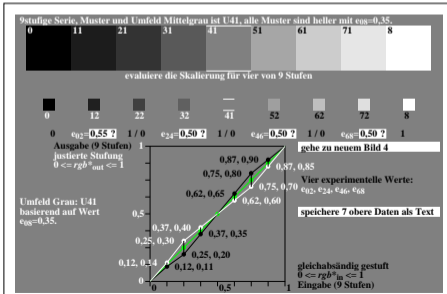


igb11-5a, Bild 1, evaluiere (e) visuelle Skalierung zwischen Schwarz N – Weiß W, $\gamma_{rel}=0,67$

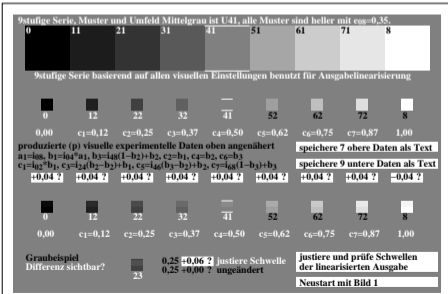


igb11-6a, Bild 2, evaluiere (e) visuelle Skalierung zwischen zwei von fünf Stufen, $\gamma_{rel}=0,67$



igb11-7a, Bild 3, evaluiere (e) visuelle Skalierung zwischen vier von neun Stufen, $\gamma_{rel}=0,67$

igb11-7n



igb11-8a, Bild 4, evaluiere (e) Schschwelle ($\pm 0,04$?) von 9 Stufen; alle gleich?; $\gamma_{rel}=0,67$